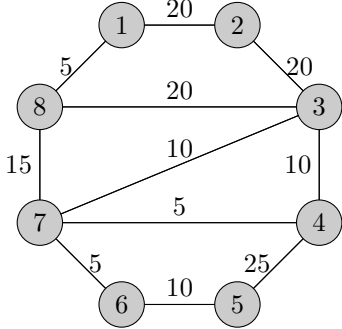


Фамилия, имя: _____ Группа: _____

Вариант: 1 Дата: 1 декабря 2008 г.

Тема: алгоритм Дейкстры

Покажите работу алгоритма Дейкстры (заполнение массива $D[]$) на данном графе (начальная вершина — вершина 1):

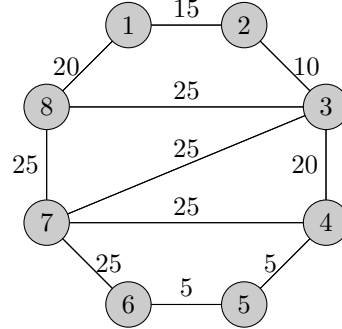


Фамилия, имя: _____ Группа: _____

Вариант: 2 Дата: 1 декабря 2008 г.

Тема: алгоритм Дейкстры

Покажите работу алгоритма Дейкстры (заполнение массива $D[]$) на данном графе (начальная вершина — вершина 1):

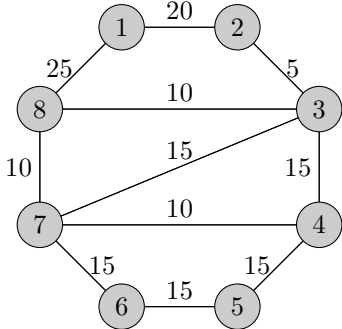


Фамилия, имя: _____ Группа: _____

Вариант: 3 Дата: 1 декабря 2008 г.

Тема: алгоритм Дейкстры

Покажите работу алгоритма Дейкстры (заполнение массива $D[]$) на данном графе (начальная вершина — вершина 1):



Фамилия, имя: _____ Группа: _____

Вариант: 4 Дата: 1 декабря 2008 г.

Тема: алгоритм Дейкстры

Покажите работу алгоритма Дейкстры (заполнение массива $D[]$) на данном графе (начальная вершина — вершина 1):

